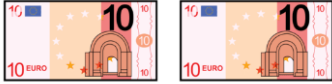

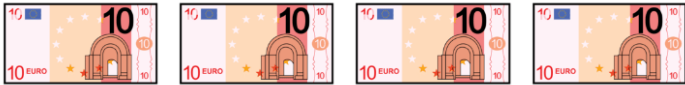






CÁLCULO ABN

CÁLCULO CON EUROS

BILLETES Y MONEDAS	¿CUÁNTO DINERO TENGO?
 <p>¿Cuántos billetes tengo? ___</p> <p>¿Cuánto vale cada billete? ___ €</p>	
 <p>¿Cuántos billetes tengo? ___</p> <p>¿Cuánto vale cada billete? ___ €</p>	
 <p>¿Cuántos billetes tengo? ___</p> <p>¿Cuánto vale cada billete? ___ €</p>	
 <p>¿Cuántos billetes tengo? ___</p> <p>¿Cuánto vale cada billete? ___ €</p>	
  <p>¿Cuántos billetes tengo? ___</p> <p>¿Cuánto vale cada billete? ___ €</p>	






¿Cuántos billetes tengo? ___

¿Cuánto vale cada billete? ___ €



¿Cuántos billetes tengo? ___

¿Cuánto vale cada billete? ___ €



¿Cuántos billetes tengo? ___

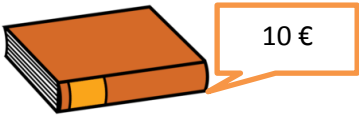


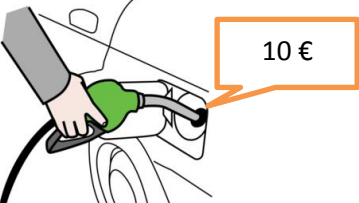



¿Cuánto vale cada billete? ___ €





¿Cuántos billetes tengo? ___

¿Cuánto vale cada billete? ___ €



Cada uno cuesta...	Cantidad	Tengo que pagar
	Si compro 2 libros	
	Si compro 3 estuches	
	Si vamos a un restaurante y nos comemos 4 ensaladas	
	Si echo 5 veces gasolina	
	Si vamos 6 amigos al cine	
	Si monto 7 veces en el autobús	
	Si vamos 8 amigos al zoo	

 <p data-bbox="453 219 608 293">10 €</p>	<p data-bbox="639 309 1086 394">Si llevo 9 billetes iguales en la cartera</p>	
 <p data-bbox="453 450 608 524">10 €</p>	<p data-bbox="639 483 1118 618">Si mis abuelos durante 10 días me dan la misma cantidad de dinero</p>	